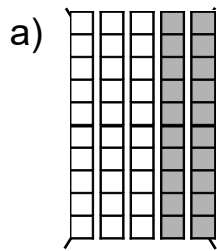
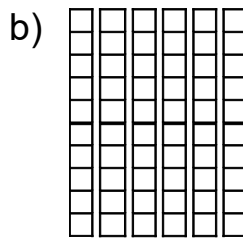


## Mit Zehnerzahlen rechnen

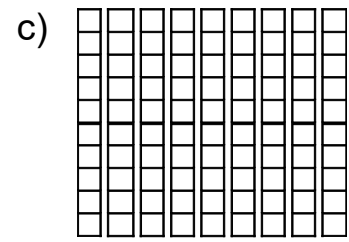
1) Lege und rechne!



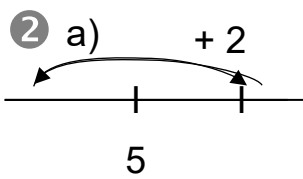
$$30 + 20 = 50$$



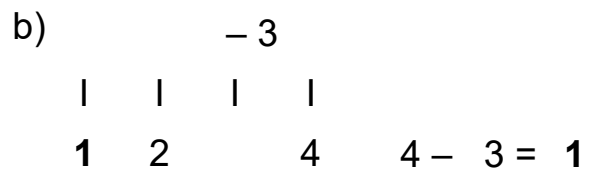
$$60 - 10 = 50$$



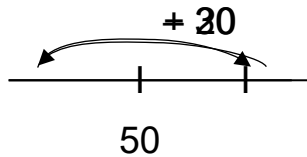
$$90 - 50 = 40$$



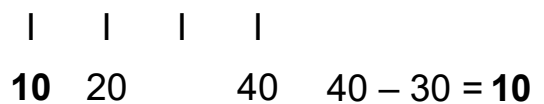
$$5 \quad 7 \quad 5 + 2 = 7$$



$$1 \quad 2 \quad 4 \quad 4 - 3 = 1$$



$$50 \quad 70 \quad 50 + 20 = 70$$



$$10 \quad 20 \quad 40 \quad 40 - 30 = 10$$

3) a)  $3 + 3 = 6$       $3 + 7 = 10$      b)  $7 - 6 = 1$       $8 - 0 = 8$   
 $30 + 30 = 60$       $30 + 70 = 100$       $70 - 60 = 10$       $80 - 0 = 80$

4) a)

+	20	30	10	40
40	60	70	50	80
20	40	50	30	60
50	70	80	60	90

b)

-	50	30	40	20
90	40	60	50	70
70	20	40	30	50
60	10	30	20	40

5) a) Lenas Mutter ist 30 Jahre alt.  
Die Oma ist noch 20 Jahre älter als die Mutter.  
Wie alt ist die Oma?



$$20 + 30 = 50$$

Die Oma ist 50 Jahre alt.



b) Frau Mai ist 20 Jahre jünger als Herr Baum. Herr Baum ist 60 Jahre alt.  
Wie alt ist Frau Mai?

$$60 - 20 = 40$$

Frau Mai ist 40 Jahre alt.