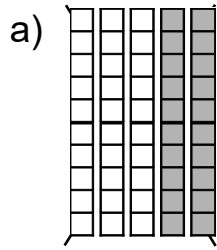
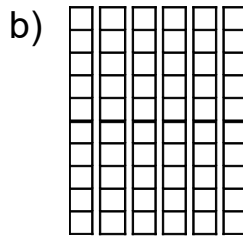


## Mit Zehnerzahlen rechnen

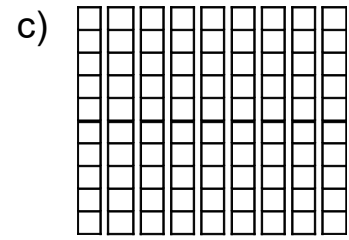
1 Lege und rechne!



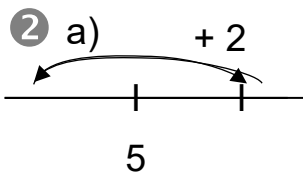
30 + =



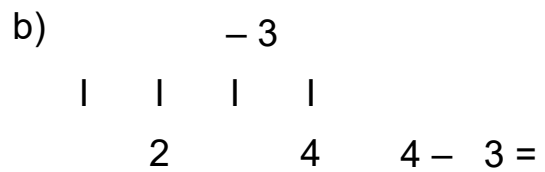
60 - =



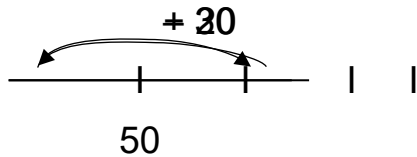
90 - =



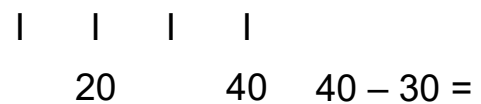
5 + 2 =



4 - 3 =



50 + 20 =



40 - 30 =

3 a)  $3 + 3 =$        $3 + 7 =$   
 $30 + 30 =$        $30 + 70 =$

b)  $7 - 6 =$        $8 - 0 =$   
 $70 - 60 =$        $80 - 0 =$

4 a)

+	20	30	10	
40				80
20				
50				

b)

-	50	30	40	
90				70
70				
60				

5 a) Lenas Mutter ist 30 Jahre alt.  
 Die Oma ist noch 20 Jahre  
 älter als die Mutter.  
 Wie alt ist die Oma?

b) Frau Mai ist 20 Jahre jünger  
 als Herr Baum. Herr Baum  
 ist 60 Jahre alt.  
 Wie alt ist Frau Mai?

\_\_\_\_\_

\_\_\_\_\_