

Uhrzeiten ablesen und einstellen


1 Gib jeweils beide Uhrzeiten an!

a)




8:00 Uhr

20:00 Uhr



10:30 Uhr

22:30 Uhr



3:15 Uhr


15:15 Uhr



7:45 Uhr

19:45 Uhr

b)




5:30 Uhr

17:30 Uhr




1:00 Uhr

13:00 Uhr



11:45 Uhr

23:45 Uhr



9:15 Uhr

21:15 Uhr

2 Zeichne die Zeiger ein!




a)



2:15 Uhr



12:00 Uhr



4:45 Uhr



6:30 Uhr




b)




16:30 Uhr



14:00 Uhr



0:15 Uhr



18:45 Uhr